

點按畫面中任一人物，動作就會開始呵！點按畫面中任一人物，動作就會停止囉！



幾點鐘

新灰姑娘
扉頁動畫

重點複習



現在是幾點鐘？



為什麼灰姑娘這麼緊張呢？



課本

習作

數位資源

周邊資源

電子書祕笈

雙頁

1 聽老師說故事。〈配合附件 17〉

互動解題 按照發生的先後順序排排看。



2 早上起床後，你會先做什麼？

再做什么？〈配合附件 18〉

按照發生的先後順序排排看。



3 聽完灰姑娘的故事，想想看。

解題動畫

(1) 做哪一件事花的時間比較長？



(2) 做哪一件事花的時間比較短？



4 和同學比比看，誰單腳站立的時間比較長？

習作 課習對照

即時測驗 習作 課習對照

1 這些是時鐘和手錶。

補充活動



2 說說看看，鐘面上有什麼？

互動解題

解題動畫

補充活動



- 哪一根針是長針？
- 哪一根針是短針？
- 哪一根針走得比較快？
哪一根針走得比較慢？

即時測驗

習作

課習對照

1 辛勞的灰姑娘。

解題關鍵

互動解題

- 灰姑娘打掃時，長針指在哪裡？短針指在哪裡？是上午 點鐘。
- 她幾點鐘做早餐給姐姐吃？
 點鐘。
- 她幾點鐘洗衣服？
 點鐘。
- 她幾點鐘煮午餐？
 點鐘。



課習對照

習作

2 看圖說故事。

互動解題

(1) 6 點鐘



(2) 8 點鐘



(3) 9 點鐘



(4) 12 點鐘



3 我來說，你來撥鐘。

互動解題

〈配合附件 19〉

重新布題

時鐘

補充活動

附件組裝影片

習作

課習對照

即時測驗

4 點鐘



活動 4 幾點半

學中
即時評量

重點複習

1 弟弟準備到公園騎腳踏車。

解題關鍵

互動解題

解題動畫

補充活動



現在幾點了？



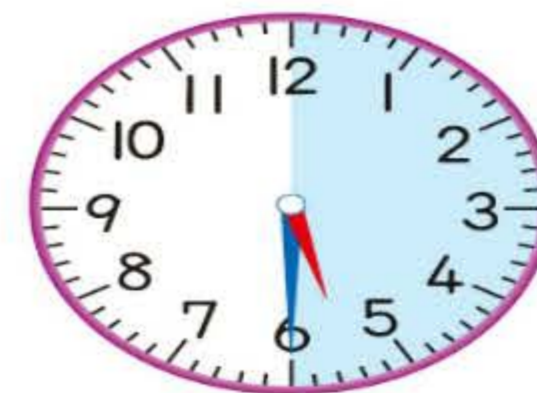
(1) 從 5 點鐘開始，長針走了半圈，是什麼時候？拿出時鐘撥一撥看看。



從 5 點鐘開始，長針走了半圈，指著 6，短針指在 5 和 6 之間，是 5 點半。



5 點鐘



5 點半

(2) 從 5 點半開始，長針再走半圈，是什麼時候？拿出時鐘撥一撥看看。



2 小明參加戶外教學，看圖說說看。

互動解題

補充活動

(1) 上午 8 點鐘



(2) 上午 9 點半



(3) 上午 10 點鐘



(4) 中午 12 點鐘



(5) 下午 1 點半



(6) 下午 3 點半



即時測驗

習作

課習對照

108 配合習作 第76、77頁



教師應要求學生先說明長針、短針的位置，再報讀時刻。
例：學生說：「短針指在3和4之間，長針指著6，是3點半。」

活動 5 會是幾點鐘

學中 即時評量

重點複習

1 早上 8 點鐘，姐姐們還在睡覺。

我 1 小時後要去剪頭髮。

大姐

二姐

我 2 小時後要去逛街。



解題動畫

補充活動

拿出時鐘撥撥看看。



8 點鐘

↓ 1 小時後

(1) 大姐幾點鐘要去剪頭髮？ 9 點鐘



點鐘

↓ 1 小時後

(2) 二姐幾點鐘要去逛街？ 10 點鐘



點鐘



先填填看看，再圈出正確的鐘面。



3 點鐘

2 小時後



4 點鐘



5 點鐘



1. 本活動學習從整點開始，前後1小時(或2小時)是什麼時刻。
2. 建議教師可利用適當時機，讓學生體驗1小時大約多久。
3. 教師出題時，請限定在指定時刻的前後2小時內，且該時段不宜跨12點鐘。

課習對照

習作

配合習作 第78頁 109

課本

習作

數位資源

周邊資源

電子書祕笈

雙頁

晚上7點鐘，全家坐在客廳裡。

- 解題關鍵
- 解題動畫
- 補充活動

我1小時前在打球。



我2小時前在寫功課。



7點鐘 1小時前

拿出時鐘撥撥看看。

(1) 哥哥幾點鐘打球？

6 點鐘



6 點鐘

(2) 妹妹幾點鐘寫功課？

5 點鐘



5 點鐘



先填填看看，再圈出正確的鐘面。



2 點鐘

6 點鐘



4 點鐘



練習百百分

做哪一件事花的時間比較長？

在 裡打 。

(1) 戴帽子

穿衣服

(2) 洗澡

洗臉

幾點鐘？填一填。

類似題

(1)



4 點鐘

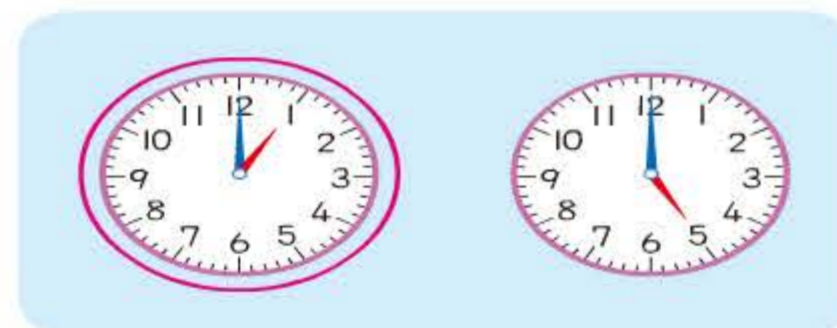
(2)



10 點半

姐姐3點鐘打掃完房間，她打掃了2小時，姐姐幾點鐘開始打掃？拿出時鐘撥撥看看，圈出正確的鐘面。

類似題



3 點鐘

8 幾點鐘




活動 1 先和後

1 按照事情發生的先後順序，在 裡填入 1、2、3。

(1)

		
<input type="checkbox"/> 3	<input type="checkbox"/> 2	<input type="checkbox"/> 1

(2)

		
<input type="checkbox"/> 2	<input type="checkbox"/> 3	<input type="checkbox"/> 1

(3)



		
<input type="checkbox"/> 1	<input type="checkbox"/> 3	<input type="checkbox"/> 2

課本



70 配合課本第102頁

2 做哪一件事情花的時間比較長？在 裡打 。

(1)

	
<input checked="" type="checkbox"/> 吃飯	<input type="checkbox"/> 添飯

(2)

	
<input type="checkbox"/> 喝水	<input checked="" type="checkbox"/> 吃麵

(3)

	
<input checked="" type="checkbox"/> 堆積木	<input type="checkbox"/> 推倒積木

課本

配合課本第103頁

71

課本

習作

數位資源

周邊資源

電子書祕笈

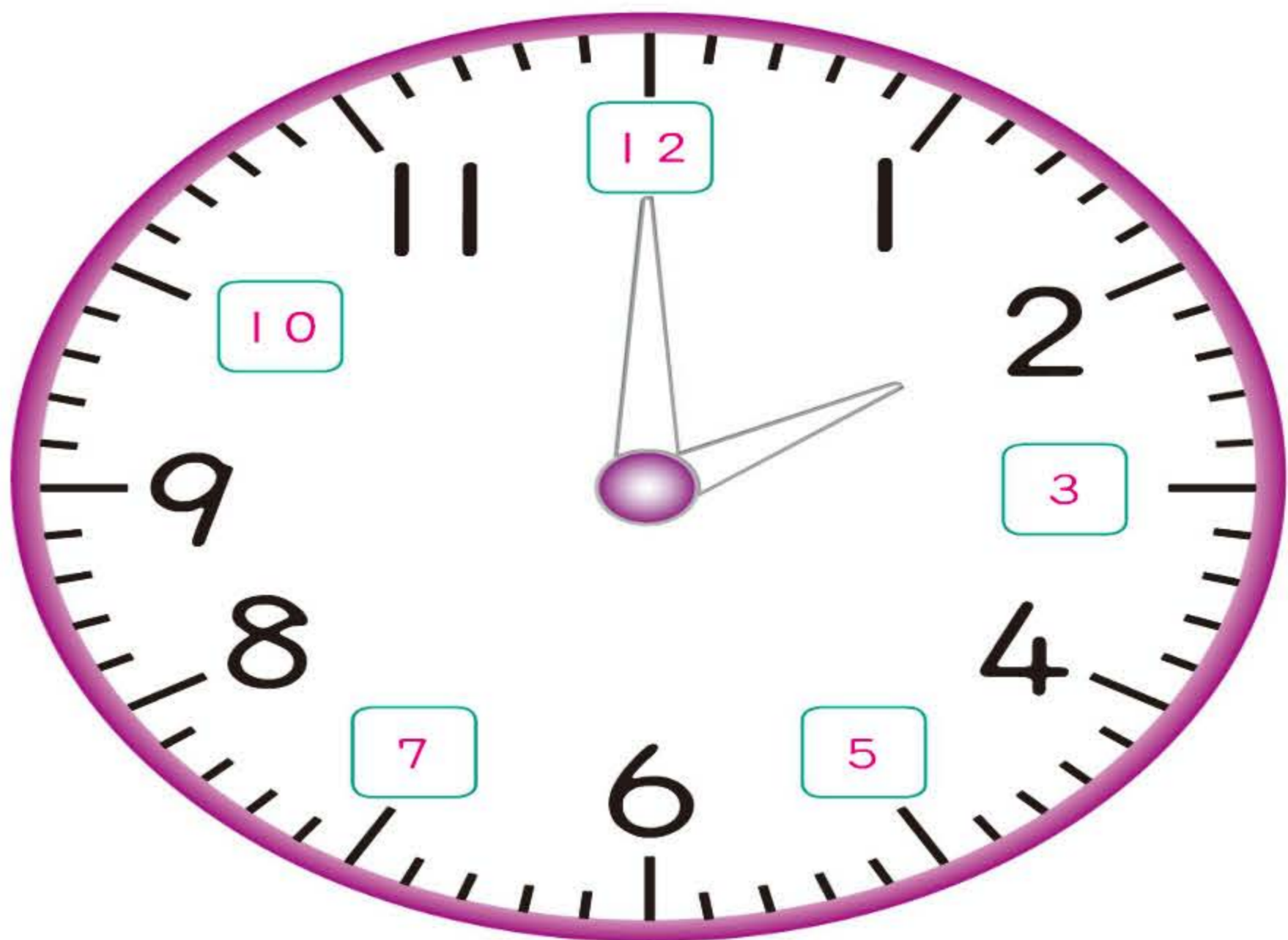
雙頁



活動 2 認識時鐘

1 看鐘面回答問題。

(1) 在 裡填入正確的數字。



(2) 把短針塗紅色，長針塗藍色。

(3) 哪一根針走得比較快？

(短針，長針)



活動 3 幾點鐘

1 看圖填填看。

(1)



長針指著 12，
短針指著 8，
是上午 8 點鐘，
美美和爺爺在公園運動。

(2)



長針指著 12，
短針指著 10，
是上午 10 點鐘，
美美帶著小狗去公園散步。

(3)



長針指著 12，
短針指著 3，
是下午 3 點鐘，
美美和姐姐在玩耍。



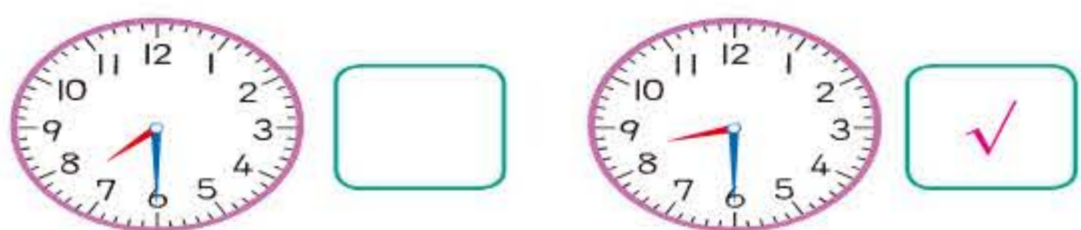
活動 4 幾點半

1 想一想，在對的 裡打 \checkmark 。

(1) 美美晚上開始吃飯，長針轉半圈後吃完整，美美什麼時候吃完整飯？



(2) 美美晚上開始看電視，長針轉半圈後看完，美美什麼時候看完電視？



(3) 美美晚上開始洗澡，長針轉半圈後洗完，美美什麼時候洗完澡？



2 幾點鐘？連連看。

7 點鐘

2 點半

4 點鐘

3 點半

4 點半

9 點半

3 是什麼時候？在 裡打 ，再填填看看。

例：



- 上午
- 下午
- 7 點鐘

(1)



- 上午
- 下午
- 7 點半

(2)



- 上午
- 下午
- 8 點鐘

3 (3)



- 上午
- 下午
- 2 點鐘

(4)



- 上午
- 下午
- 5 點鐘

(5)



- 上午
- 下午
- 6 點半



活動 5 會是幾點鐘

1 拿出時鐘撥撥看看，在對的裡打✓。

(1) 哥哥下午4點鐘開始跑步，1小時後結束，哥哥下午幾點鐘跑步結束？

4點鐘

1小時後

(2) 姐姐晚上7點鐘開始看書，2小時後看完，姐姐晚上幾點鐘看完書？

7點鐘

2小時後

(3) 爸爸晚上6點鐘開始加班，2小時後回家，爸爸晚上幾點鐘回家？

6點鐘

2小時後

(4) 現在是晚上7點鐘，妹妹在1小時前開始跳舞，妹妹晚上幾點鐘開始跳舞？

1小時前

7點鐘

(5) 現在是上午10點鐘，爺爺在2小時前開始下棋，爺爺上午幾點鐘開始下棋？

2小時前

10點鐘

(6) 現在是中午12點鐘，弟弟在2小時前開始上畫畫課，弟弟上午幾點鐘開始上畫畫課？

2小時前

12點鐘