



九年_____班

命題組	組員座號：	分數
		滿分 100
請設計 6 個地質事件，依序填入下方： (應標示岩石和斷層類型；若無，一次扣 2 分)		
1.		
2.		
3.		
4.		
5.		
6.		


圖例：



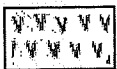
礫岩




石灰岩



砂岩



火成岩 1



頁岩



火成岩 2

(請用不同顏色畫不同地質事件的線條!)

繪圖組	組員座號：	分數
		滿分 100
請提出兩點關於地層的形成過程與環境變化的推論：(無關對錯，少一點，扣總分 5 分。)		
1.		
2.		

評分組	組員座號：	分數	
		只寫扣分	
地層剖面	版面美觀 (10%)		請將分數繪圖組分數填入
	符號正確 (20%)		
	原則正確 (50%)		
口頭報告	直視觀眾 (5%)		
	肢體自然 (5%)		
	口語清晰 (10%)		
若有扣分，必須要條列扣分理由，一個理由扣 2 分。若應扣分而未扣分，1 分扣在繪圖組，1 分扣在評分組。(若位置不夠，可寫在背面。)			