


得分區

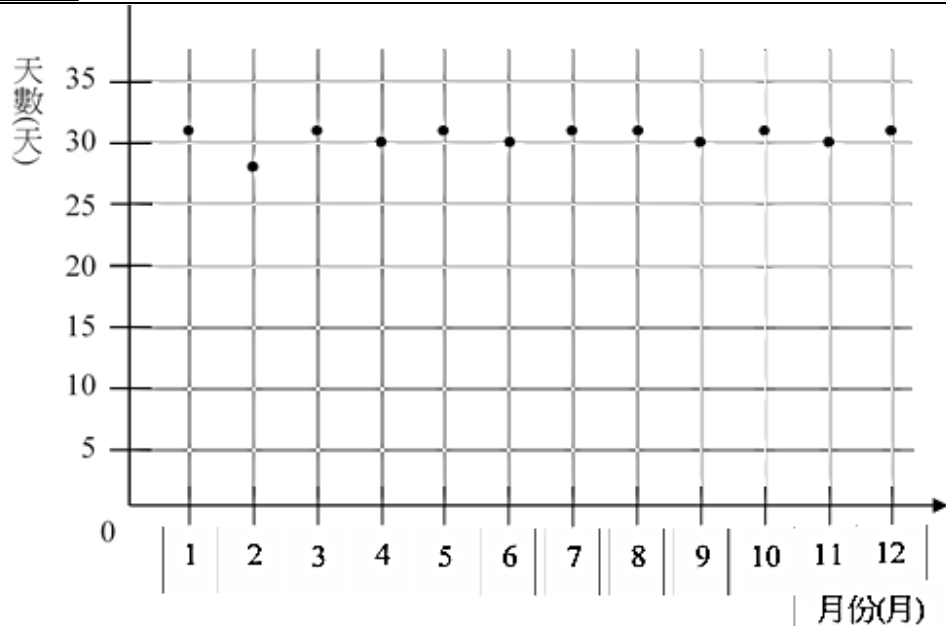
特徵卡

數字卡



數字卡

- 玩家需說出「滿足情境」的敘述才能得分



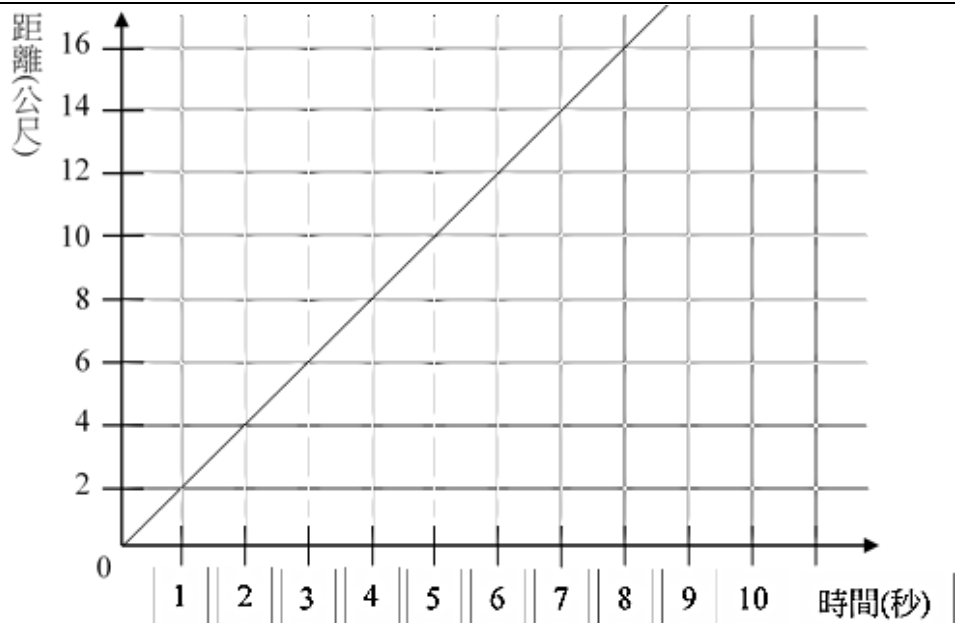
若 $x=2$ 則 $y=28$

若 $x=1,3,5,7,8,10,12$ 則 $y=31$

若 $x=4,6,9,11$ 則 $y=30$

月份天數：
 一年有 12 個月，
 每個月份的天數在 28-31 天之
 間，平年的○月有□天。

X	1	2	3	4	5	6	7	8	9	10	11	12
Y	31	28	31	30	31	30	31	31	30	31	30	31



$$y = 2x$$

走路速率：

小強以每秒 2 公尺的速率在操場快走，他走了○秒，共走了□公尺。

X	1	2	3	4	5	6	7	8	9	10	...
Y	2	4	6	8	10	12	14	16	18	20	...

手機通話費率：

每通電話前 5 分鐘免費，

之後每分鐘收費 10 元，

未滿 1 分鐘仍以 1 鐘計費。

小英打一通○分鐘的電話需付□
元。

X	1~5	6	7	8	9	10	11	12	...
Y	0	10	20	30	40	50	60	70	...

0

1

2

3

5

6

7

7

8

9

10

10

11

12

14

15

20

28

30

30

31

40

50

60